





# UČNI LIST SEŠTEVANJE IN ODŠTEVANJE

1. NA ČRTO SPODAJ NAPIŠI RAČUN IN IZRAČUNAJ!





## UČNI LIST SEŠTEVANJE IN ODŠTEVANJE

### 2. IZRAČUNAJ IN SPODAJ NA ČRTO NAPIŠI KAJ OPAZIŠ!

$1 + 9 =$

$4 + 6 =$

$2 + 8 =$

$5 + 5 =$

$3 + 7 =$

KAJ OPAZIM:

---

### 3. POMISLI IN OBKROŽI PRAVILNI MATEMATIČNI ZNAK.

BOŠ ODŠTEVAL ALI SEŠTEVAL?

$5 \quad +/- \quad 5 = 10$

$4 \quad +/- \quad 5 = 9$

$7 \quad +/- \quad 5 = 2$

$5 \quad +/- \quad 5 = 0$

$2 \quad +/- \quad 1 = 3$

$1 \quad +/- \quad 1 = 0$

$10 \quad +/- \quad 2 = 8$

$6 \quad +/- \quad 6 = 0$

$6 \quad +/- \quad 2 = 4$

3.A PRI KATERI RAČUNSKI OPERACIJI JE REZULTAT 0?